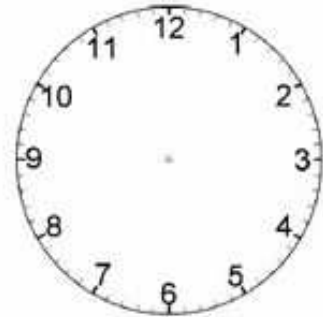


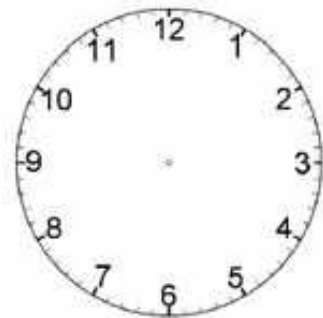
Która jest godzina, a która będzie? Oblicz godziny. Zapisz je i zaznacz na zegarach.



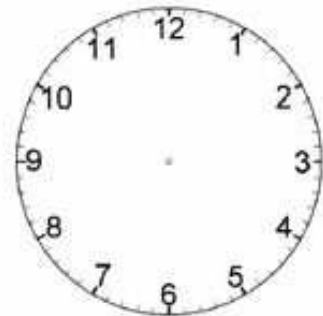
Jest godzina 13.00.  
Która godzina będzie za  
60 minut?

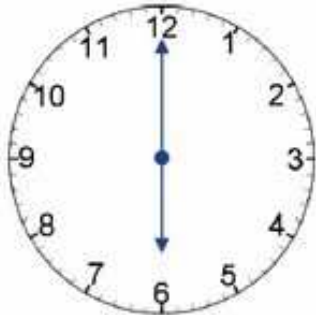
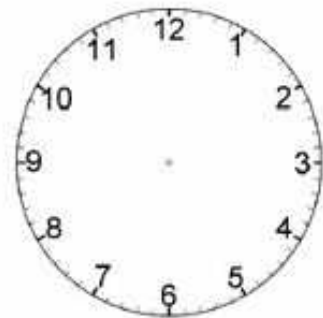
Jest godzina 15.30.  
Która godzina będzie za  
15 minut?

Jest godzina 16.15.  
Która godzina będzie za  
kwadrans?

Jest godzina 21.00.  
Która godzina będzie za  
30 minut?

Jest godzina 18.00.  
Która godzina będzie za  
pół godziny?